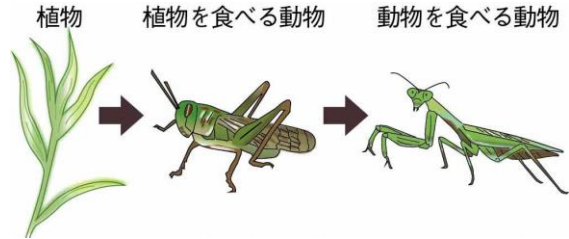




No. 7 生物と環境 (1)	名前	組 番	/10 問
-----------------	----	-----	-------

1 生物どうしの関わりについて、次の ( ) に当てはまる言葉を書きましょう。


1 右の図のように、生物は、「食べる」  
「食べられる」の関係でつながっている。  
このような関係を (1) )  
といいます。



- 2 植物は養分をつくりだし、  
(2) ) 動物はその植物を食べ、  
(3) ) 動物は他の動物を食べ、養分をとり入れている。

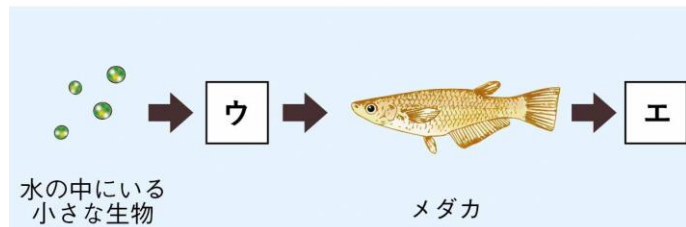
2 食物れんさについて、次の [ ] のうち正しいものを○で囲みましょう。

1 右の図の **ア** に当てはまるのは、  
[4] チョウの幼虫・オオタカ ]  
です。



2 右の図の **イ** に当てはまるのは、  
[5] チョウの幼虫・オオタカ ]  
です。

3 右の図の **ウ** に当てはまるのは、  
[6] ミジンコ・ナマズ ] です。



4 右の図の **エ** に当てはまるのは、  
[7] ミジンコ・ナマズ ] です。

3 生物の水との関わりについて、次の [ ] のうち正しいものを○で囲みましょう。

- 1 人(成人)の体にふくまれている水の割合は、約 [8] 6・60 ] %です。  
2 植物は、[9] 根・葉 ] から水を吸い上げている。  
3 生物が生きていくために、水は [10] 無くてはならない・無くてよい ] 。

すべての生物は、食物を通して  
つながっているね。



.....キリトリ.....

- 〈解答〉 1 ① 食物れんさ ② 植物を食べる (草食の) ③ 動物を食べる (肉食の)  
2 ④ チョウの幼虫 ⑤ オオタカ ⑥ ミジンコ ⑦ ナマズ  
3 ⑧ 60 ⑨ 根 ⑩ 無くてはならない