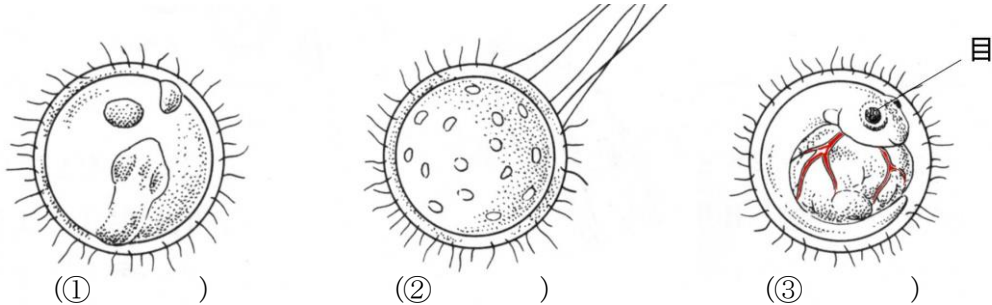




No. 6 魚のたんじょう (2)	名前	組 番 /10問
-------------------	----	----------

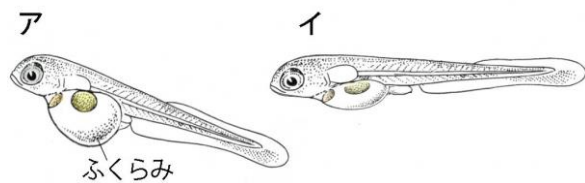
1 メダカのとまごが変化する順に、次の () に1~3の数を書きましょう。



2 たまごからかえったメダカについて、次の [] のうち正しいものを○で囲みましょう。

1 たまごが育つための養分は、たまごの [④ 中・外] にある。

2 たまごからかえったばかりの子メダカは、右の図の [⑤ ア・イ] です。



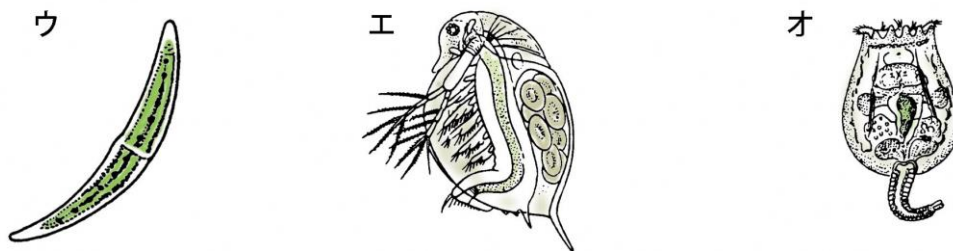
この頃の子メダカは、えさを [⑥ よく食べる・ほとんど食べない] 。

3 上の図の**ア**のメダカのふくらみには [⑦ 養分・たまご] が入っている。

4 上の図の**ア**のメダカのふくらみは、日がたつと [⑧ 大きくなる・小さくなる] 。

3 水の中の小さな生物について、次の [] のうち正しいものを○で囲みましょう。

1 ミジンコは次の図の [⑨ ウ・エ・オ] です。



2 メダカは、ミジンコなどの小さな生物を [⑩ 食べる・食べない] 。

池や川の水の中には、小さな生物がたくさんいるね。



.....キリトリ.....

〈解答〉 1 ① 2 ② 3 ③ 3

2 ④ 中 ⑤ **ア** ⑥ ほとんど食べない ⑦ 養分 ⑧ 小さくなる

3 ⑨ **エ** ⑩ 食べる