



No.15 電気の通り道(2)	名前	組 番	/10問
-----------------	----	-----	------

1 ① どう線のつなぎ方として正しいものを、次のア、イ、ウから1つえらんで()に書きましょう。

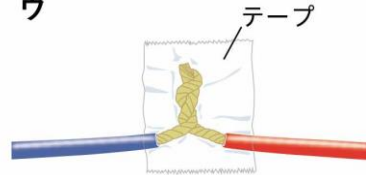
ア



イ



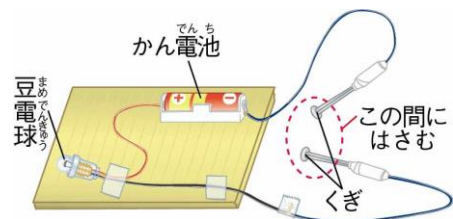
ウ



(1))

2 ② 右の図のように、くぎとくぎの間にいろいろなものはさんで、電気を通すかどうか調べました。

電気を通すものには○、電気を通さないものには×を、下の()にそれぞれ書きましょう。



アルミニウムはく



(2))

ガラスのコップ



(3)

竹のものさし



(4)

鉄のクリップ




(5))

1円玉



(6))

おり紙



(7)

スチール(鉄)のかん



(8)

アルミニウムのかん



(9))

3 ③ 電気を通すものについて、次の()に当てはまる言葉を書きましょう。

鉄やアルミニウムなどの(10))は、電気を通す。

はさみの持つところは電気を通さなくても、はさみの切るところは電気を通すよ。



.....キリトリ.....

〈答え〉 1 ① ウ

2 ② ○ ③ × ④ × ⑤ ○ ⑥ ○ ⑦ × ⑧ ○ ⑨ ○

3 ⑩ 金ぞく