



No. 2 植物を育てよう (1)	名前	組 番 /10 問
-------------------	----	-----------

1 たねのまき方について、次の〔 〕のうち正しいものを○でかこみましょう。

- 1 ホウセンカのたねは、右の図の〔① ア・イ〕です。
- 2 たねをまく前に、土をほりおこして、〔② 水・ひりょう〕を入れておく。
- 3 ホウセンカのたねのまき方で正しいのは、右の図の〔③ ウ・エ〕です。
- 4 たねをまいた後、土がかわかないように、〔④ 水・ひりょう〕をかける。

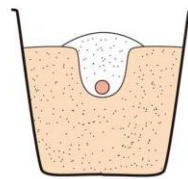
ア



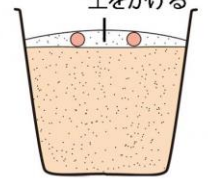
イ



ウ



エ



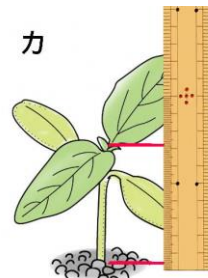
2 ヒマワリのめが出た様子について、次の()に当てはまる言葉や数を書きましょう。

- 1 右の図のオで、さいしよに出てきた葉は、(⑤)といひます。
- 2 さいしよに出てきた葉の数は、(⑥)まいです。
- 3 右の図のカで、調べているのは、植物の(⑦)です。

オ



カ



3 ホウセンカとヒマワリの育ち方について、下の〔 〕のうち正しいものを○でかこみましょう。

ホウセンカとヒマワリの育ち方をくらべました。

- ・たねの大きさは、〔⑧ 同じです・ちがいます〕。
- ・さいしよに出てきた葉の数は、〔⑨ 同じです・ちがいます〕。
- ・さいしよに出てきた葉の形は、〔⑩ 同じです・ちがいます〕。

ホウセンカとヒマワリの育ち方をくらべると、同じところと、ちがうところがあるね。



.....キリトリ.....

- 〈答え〉
- 1 ① イ ② ひりょう ③ エ ④ 水
 - 2 ⑤ 子葉 ⑥ 2 ⑦ 高さ(せの高さ)
 - 3 ⑧ ちがいます ⑨ 同じです ⑩ ちがいます